

БЛАНК ОТВЕТОВ
 ТЕОРЕТИЧЕСКИЙ ТУР

Шифр

К	205
---	-----

ПРЕДМЕТНАЯ СЕКЦИЯ «ОБЕСПЕЧЕНИЕ ЛИЧНОЙ БЕЗОПАСНОСТИ В ПОВСЕДНЕВНОЙ ЖИЗНИ»

ЗАДАНИЕ 1

1.1. Дайте определение:

Наркотические средства –

25. вещества синтетического или естественного происхождения, растительными или минеральными компонентами, которые попадают под строгий контроль на территории РФ и входят в ОНН

Наркотическая зависимость –

35. хроническое заболевание, которое сопровождается комплексными изменениями нервной системы, что приводит к серьезным изменениям в мозге, разрушению личности, к смерти

1.2. Соотнесите название наркотика и признака передозировки

Наркотик	1	2	3	4	5
Признаки передозировки	д	б	а	в	г

1.3. Перечислите 3 основных фактора, увеличивающие риск развития заболевания наркомании, дайте им характеристику:

25. Окружение – влияние сверстников, родителей
 35. Психологические факторы – низкая самооценка, отсутствие навыков
 35. Асоциальные ценности, наличие

38. Тематические упражнения - тематическая
подфраза о чужбности и зависимости

Оценочные баллы: максимальный - 30 баллов; фактический - 24 баллов

Подписи членов жюри

ЗАДАНИЕ 2.

2.1. Определите правильную последовательность замены противогаса в условиях зараженного воздуха:

Б Г Е А Д В З Ж

2.2. В вашем районе проживания произошел выброс ядовитых веществ. Ваши действия.

- 1) Защита органов дыхания
- 2) Быстро уйти в здание
- 3) Выйдя, закрыть герметично одежду и закрыть глаза, закрыть рот, выключить телефон
- 4) Залечь место вдали от окон
- 5) Предложить защитные средства милиции
- 6) Сделать запас воды и закрыть ее
- 7) Минимизировать распространение вредных веществ
- 8) Предложить властям меры помощи
- 9) Не обобщать место на само. При возможности замаскировать себя растительностью
- 10) Занять предельно малую площадь в здании
- 11) Сохранить физ. карту, принимать меры к себе и семье и обратиться к мед. работникам

Оценочные баллы: максимальный - 22 балла; фактический - 18 баллов

Подписи членов жюри

ЗАДАНИЕ 3.

3.1. Глядя на рисунок, напишите названия основных частей автомата.

- 1 Ствол сствальной корабной
- 2 Крышка ствольной корабной
- 3 Штыки - нож
- 4 Возвратный механизм
- 5 Затворная рама с газовым поршнем
- 6 Газовая трубка
- 7 Затвор
- 8 Машина
- 9 Чехол
- 10 Магазин




3.2. Распределите операции в порядке их выполнения при сборке автомата после неполной разборки (ответ представьте последовательностью букв, например: в, а,...):

1	2	3	4	5	6	7	8	9	10
ж	с	д	е	в	и	к	а	з	т

3.3. Определите название оружия.

- 1 Самострел
- 2 Штык-нож
- 3
- 4 Единокоп
- 5 Пистолет Макара
- 6 Тульский Токарев
- 7 Т-34
- 8 Серий машин, МА ИА - 2
- 9 АК-3, АК-7
- 10 БМ-13 "Камчатка"




Оценочные баллы: максимальный - 30 баллов; фактический - 28 баллов

Подписи членов жюри   

ТЕСТОВЫЕ ЗАДАНИЯ

№	1	2	3	4	5	6	7	8	9	10	11	12	13	14	15	
ответ	А	Б	В	В	Б	А	Б	В	А	В	А	Г	Б	А	Б	Г

Оценочные баллы: максимальный - 18 баллов; фактический - 15 баллов

Подписи членов жюри   

Оценочные баллы: максимальный - 100 баллов; фактический - _____ баллов

Подпись председателя жюри Травко